



Vaikų ir jaunimo lytinės sveikatos stiprinimas ir rizikingos lytinės elgsenos prevencija, taikant inovatyvias mokymo priemones

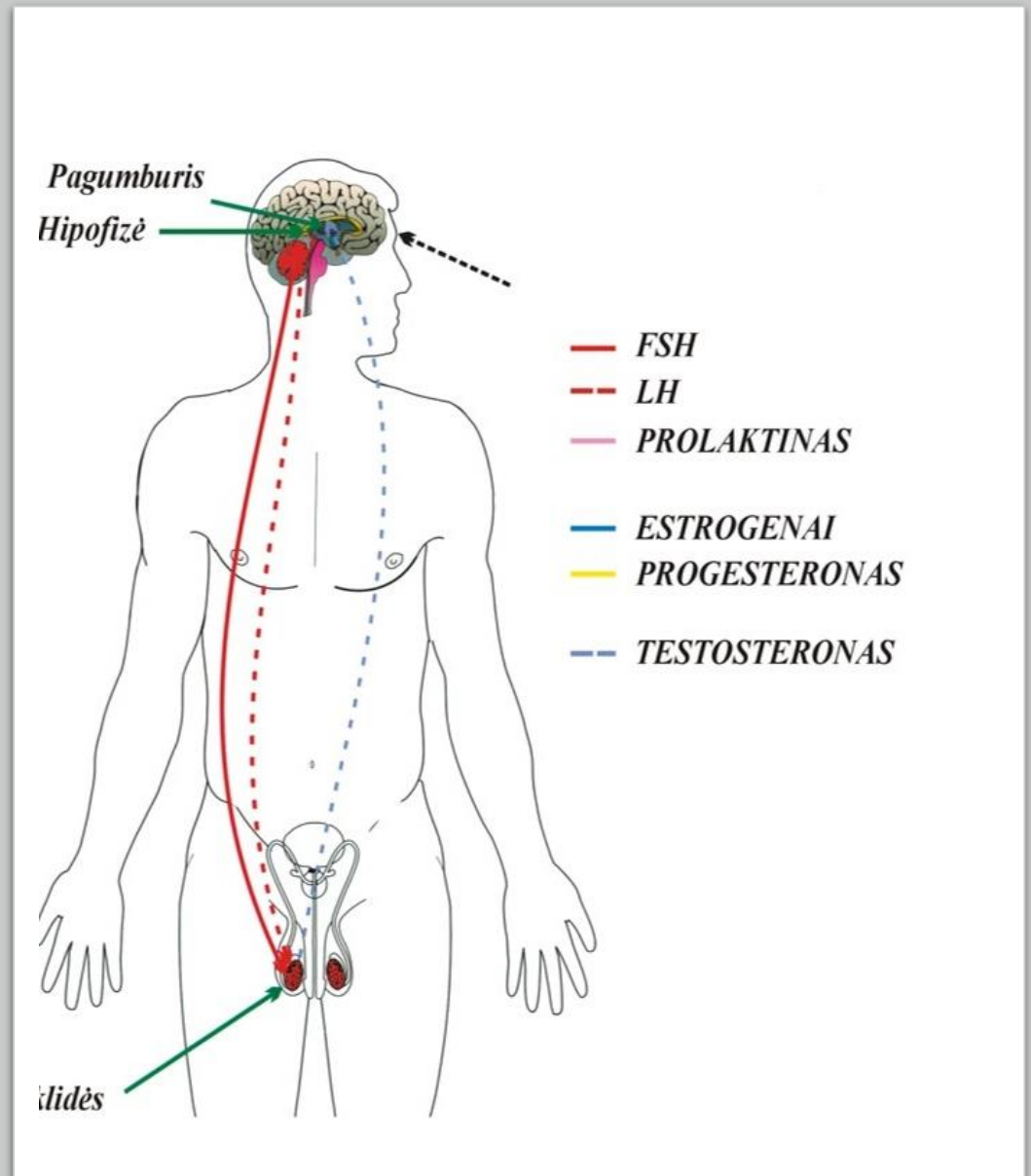
Vaisingumo formulė

Užduotys

Projektas finansuojamas Valstybinio visuomenės sveikatos stiprinimo fondo lėšomis

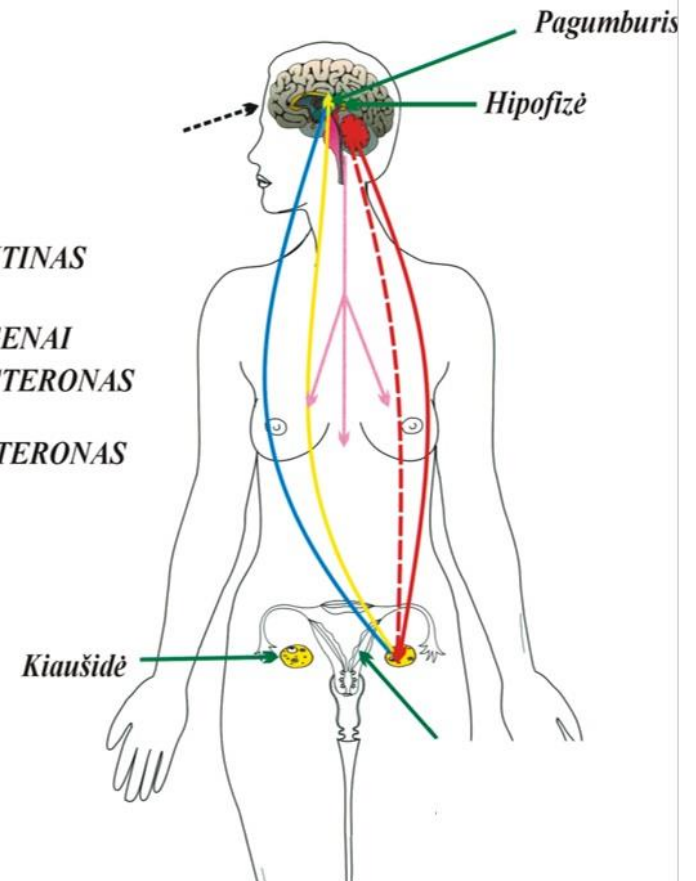
1 UŽDUOTIS

- Paaiškinti pagumburio hipofizės sėklidžių(PHS) ašies veikimą



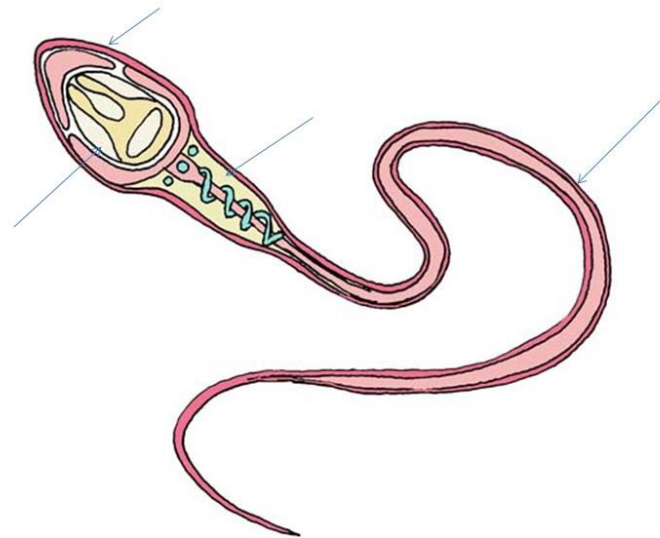
2 UŽDUOTIS

- Paaikinti pagumburio hipofizės kiaušidžių (PHK) ašies veikimą
- Paaikinti, kokį poveikį sukelia FSH, LH, ir kiekvienas lytinis hormonas skirtingoms moters organizmo sistemoms



3 užduotis

Surašyti teisingus dalių pavadinimus ir paaiškintų jų funkcijas



4 užduotis

1) Žiūrėdami į iliustraciją, teisingai įrašykite skaičius prie kiekvieno moters vidinių lytinių organo pavadinimo:

- Makštis
- Gimdos kaklelis
- Gimdos vidurinis sluoksnis
- Gimdos vidinis sluoksnis
- Gimdos ertmė
- Kiaušintakio spurga
- Kiaušintakis
- Kiaušidė

2) Paaiškinkite kiekvieno jų funkciją

